

## К АНАЛИТИЧЕСКОМУ ОПИСАНИЮ СОПРЯЖЕНИЯ ДВУХ ОКРУЖНОСТЕЙ

*Згонников К.С., Згонников С.С. ПГС-153.*

*Научные руководители – к.т.н. проф. Калинин А.А., Ковалева Г.В.*

При построении сопряженных кривых в некоторых случаях возникает необходимость точного графического построения, которая продиктована условиями производства работ (например, стыковка железнодорожных путей). В работе [1] было дано графическое и аналитическое решение задачи о внешнем сопряжении двух окружностей без заданного радиуса сопряжения по заданной точке сопряжения на одной из окружностей. Очевидно, что не для всех точек окружности такая задача может быть решена. В настоящей работе найдены условия, которым должна удовлетворять точка, чтобы указанное сопряжение было возможно, а также рассмотрено геометрическое место центров сопрягающих окружностей.

Пусть даны окружности радиусов  $r_1$  и  $r_2$  соответственно с центрами  $O_1$  и  $O_2$ , сопряженные окружностью радиуса  $R$  с центром  $D$  (рис. 1),

$$O_1O_2 = l. \quad (1)$$

Согласно результатам работы [1], внешнее сопряжение с точкой сопряжения  $A$  возможно только в том случае, когда прямая  $AO_1$  пересекает серединный перпендикуляр  $CD$  к отрезку  $MO_2$ , где  $M$  – точка на радиусе  $AO_1$  такая, что  $AM = r_2$  (рис. 2). На рисунке 2 изображен случай, когда  $AO_1$  параллельна  $CD$ .

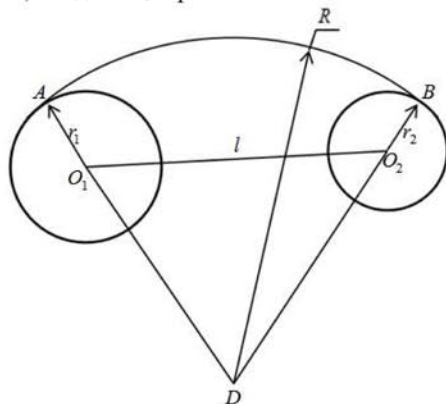


Рисунок 1

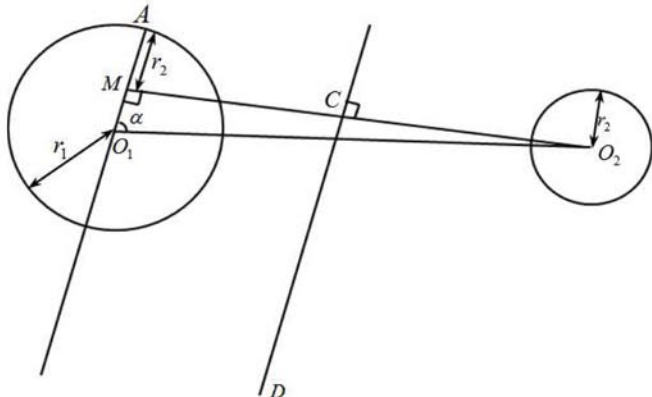


Рисунок 2

Очевидно, что  $AO_1$  пересечёт  $CD$ , если угол  $\alpha = \angle AO_1O_2$  будет больше, чем изображённый на рис.2. Найдём угол  $\alpha$ , соответствующий ситуации на рис.2:

$$\cos \alpha = \frac{O_1M}{O_1O_2} = \frac{r_1 - r_2}{l} \quad (2)$$

Таким образом, внешнее сопряжение окружностей с точкой сопряжения  $A$  возможно только в том случае, когда

$$\cos \angle AO_1O_2 < \frac{r_1 - r_2}{l} \quad (3)$$

Рассмотрим теперь вопрос о геометрическом месте центров сопряжения. Согласно рис. 1  $AD = BD$ , значит,

$$r_1 + O_1D = r_2 + O_2D \Rightarrow O_2D - O_1D = r_1 - r_2 \quad (4)$$

Разность расстояний от центра сопряжения до центров окружностей постоянная, следовательно, любой центр сопряжения лежит на гиперболе, а центры окружностей  $O_1$  и  $O_2$  являются её фокусами. Тогда параметры  $a$  и  $b$  в уравнении гиперболы находятся следующим образом:

$$2a = r_1 - r_2; \quad 2c = l \quad (5)$$

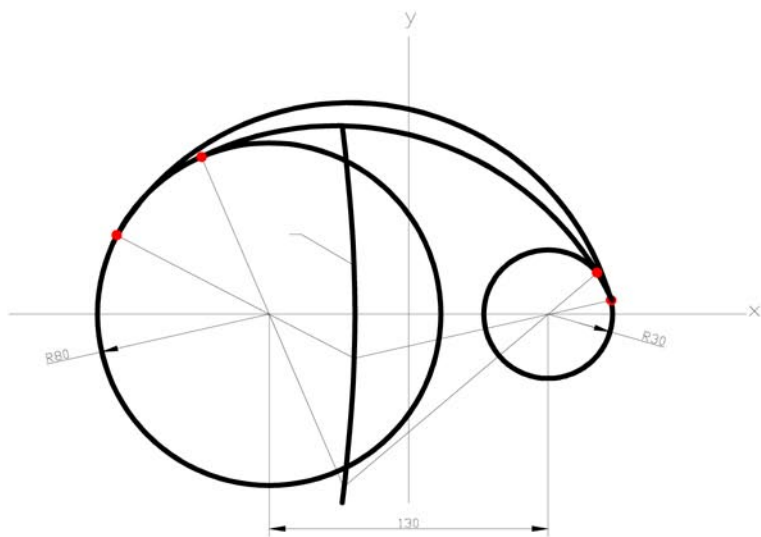
Отсюда:

$$b = \sqrt{c^2 - a^2} = \sqrt{\frac{l^2}{4} - \frac{(r_1 - r_2)^2}{4}} \quad (6)$$

Поскольку по смыслу задачи  $O_2D$  всегда больше  $O_1D$ , то центры сопряжения расположены только на левой ветви этой гиперболы. Если начало координат поместить посередине между  $O_1$  и  $O_2$ , а ось  $Ox$  направить по прямой  $O_1O_2$ , то уравнение гиперболы будет иметь вид:

$$\frac{4x^2}{(r_1 - r_2)^2} - \frac{4y^2}{l^2 - (r_1 - r_2)^2} = 1 \quad (7)$$

На рис.3 показано построение сопряжений по заданным на окружности точкам А и В с использованием кривой центров сопряжений.



1. Кривая центров сопряжения (гипербола)

Рисунок 3

### Литература

1. О.А. Нікітенко, О.О. Калінін, Т.О. Калініна. Деякі задачі для спряжених кривих другого порядку // Наукові нотатки, вип. № 22, Луцьк, 2008.